

Adı: .....

Soyadı:.....



### 3-K SINIFI MATEMATİK DERSİ VERİ TOPLAMA



### ETKİNLİK-3

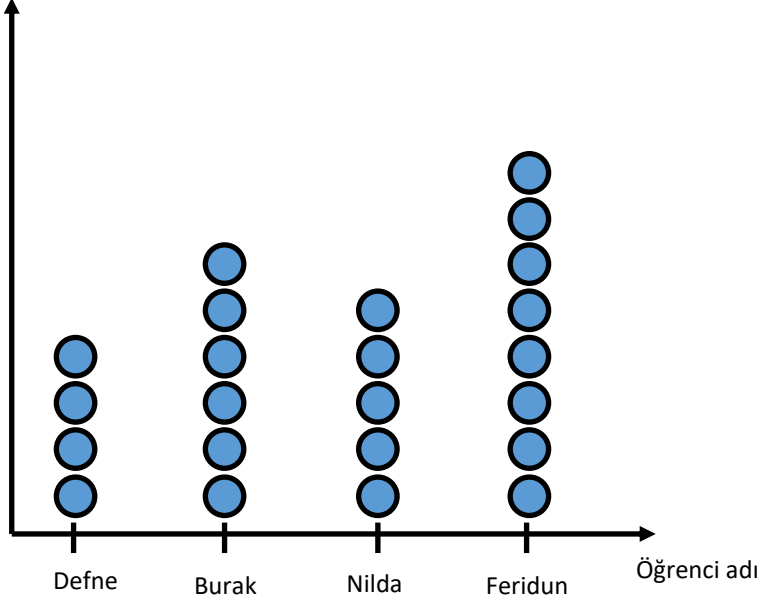
Aşağıdaki tabloları yandaki grafiği kullanarak dolduralım.

Basket Sayısı Sıklık Tablosu


Basket Sayısı Çetele Tablosu


Basket sayısı

Basket Sayısı Şekil Grafiği



(Her ● 6 basketi göstermektedir.)

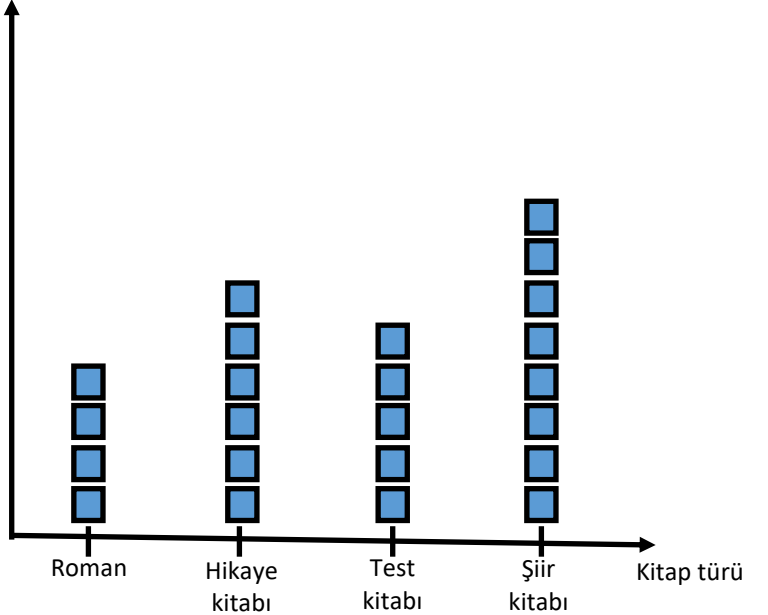
Kitap Sayısı Şekil Grafiği

Aşağıdaki tabloları yandaki grafiği kullanarak dolduralım.

Kitap Sayısı Sıklık Tablosu


Kitap Sayısı Çetele Tablosu


Kitap sayısı



(Her ■ 7 kitabı göstermektedir.)

Adı: .....

Soyadı:.....



### 3-K SINIFI MATEMATİK DERSİ VERİ TOPLAMA



#### ETKİNLİK-4

1.Grafiğe göre sayısı en az olan ağaç hangisidir ve kaç tanedir?

Cevap: .....

2.Grafiğe göre sayısı en fazla olan ağaç hangisidir ve kaç tanedir?

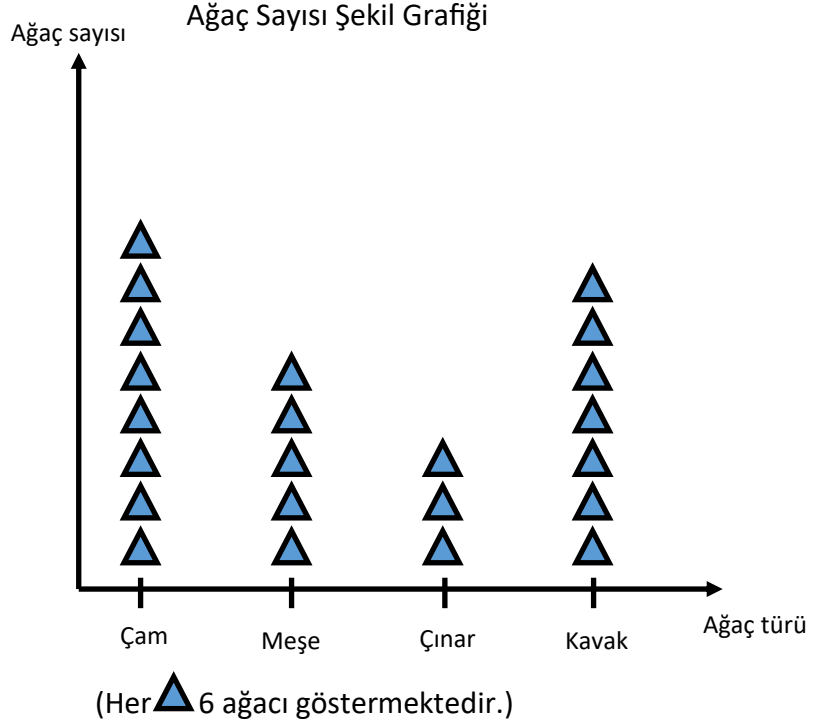
Cevap: .....

3.Grafiğe göre çam ağaçları meşe ağaçlarından ne kadar fazladır?

Çözüm:

4. Grafiğe göre çam ağaçlarıyla çınar ağaçlarının toplamı kavak ve meşe ağaçlarının toplamından ne kadar fazladır?

Çözüm:



1.Grafiğe göre aslanlarla fillerin sayılarının toplamı kaçtır?

Çözüm:

2.Grafiğe göre sayısı en fazla olan hayvanla sayısı en az olan hayvanın sayılarının farkı kaçtır?

Çözüm:

3.Grafiğe göre kurtlarla fillerin sayılarının toplamı zebra-  
nın sayısından ne kadar fazladır?

Çözüm:

4. Grafiğe göre toplam kaç tane hayvan vardır?

Çözüm:

